

## Демонстрационный вариант 2018 года

## Инструкция по выполнению работы

Экзаменационная работа состоит из двух частей, включающих в себя 20 заданий. Часть 1 содержит 18 заданий с кратким ответом, часть 2 содержит 2 задания, которые необходимо выполнить на компьютере.

На выполнение экзаменационной работы по информатике отводится 2 часа 30 минут (150 минут). К выполнению заданий части 2 можно перейти, только сдав выполненные задания части 1 экзаменационной работы. Вы можете самостоятельно определять время, которое отводите на выполнение заданий части 1, но рекомендуемое время – 1 час 15 минут (75 минут) и на выполнение заданий части 2 также 1 час 15 минут (75 минут).

При выполнении заданий части 1 **нельзя** пользоваться компьютером, калькулятором, справочной литературой.

Ответы к заданиям 1–6 записываются в виде одной цифры, которая соответствует номеру правильного ответа. Эту цифру запишите в поле ответа в тексте работы, а затем перенесите в бланк ответов № 1.

Ответы к заданиям 7–18 записываются в виде числа, последовательности букв или цифр. Ответ запишите в поле ответа в тексте работы, а затем перенесите в бланк ответов № 1. Если в задании в качестве ответа требуется записать последовательность цифр или букв, при переносе ответа на бланк следует указать только эту последовательность, без пробелов, запятых и других дополнительных символов.

Часть 2 содержит 2 задания (19, 20). Результатом выполнения каждого из этих заданий является отдельный файл. Формат файла, его имя и каталог для сохранения Вам сообщат организаторы экзамена.

При выполнении заданий можно пользоваться черновиком. **Записи в черновике, а также в тексте контрольных измерительных материалов не учитываются при оценивании работы.**

Баллы, полученные Вами за выполненные задания, суммируются. Постарайтесь выполнить как можно больше заданий и набрать наибольшее количество баллов.

*Желаем успеха!*

## Часть 1

**Ответом к заданиям 1–6 является одна цифра, которая соответствует номеру правильного ответа. Запишите эту цифру в поле ответа в тексте работы, а затем перенесите в БЛАНК ОТВЕТОВ № 1 справа от номера соответствующего задания, начиная с первой клеточки.**

- 1** В одной из кодировок Unicode каждый символ кодируется 16 битами. Определите размер следующего предложения в данной кодировке.

**Я к вам пишу – чего же боле? Что я могу ещё сказать?**

- 1) 52 байт  
2) 832 бит  
3) 416 байт  
4) 104 бит

Ответ:

- 2** Для какого из приведённых чисел ложно высказывание:  
**НЕ** (число > 50) **ИЛИ** (число чётное)?

- 1) 123                      2) 56                      3) 9                      4) 8

Ответ:

- 3** Между населёнными пунктами А, В, С, D, Е построены дороги, протяжённость которых (в километрах) приведена в таблице.

	А	В	С	D	Е
А		2	5	1	
В	2		1		
С	5	1		3	2
D	1		3		
Е			2		

Определите длину кратчайшего пути между пунктами А и Е. Передвигаться можно только по дорогам, протяжённость которых указана в таблице.

- 1) 4                      2) 5                      3) 6                      4) 7

Ответ:

4 В некотором каталоге хранился файл **Хризантема.doc**, имевший полное имя **D:\2013\Осень\Хризантема.doc**. В этом каталоге создали подкаталог **Ноябрь** и файл **Хризантема.doc** переместили в созданный подкаталог. Укажите полное имя этого файла после перемещения.

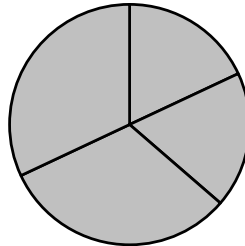
- 1) D:\2013\Осень\Ноябрь\Хризантема.doc
- 2) D:\Ноябрь\Хризантема.doc
- 3) D:\2013\Осень\Хризантема.doc
- 4) D:\2013\Ноябрь\Хризантема.doc

Ответ:

5 Дан фрагмент электронной таблицы.

	<b>A</b>	<b>B</b>	<b>C</b>	<b>D</b>
<b>1</b>	3	4	2	5
<b>2</b>		=D1-1	=A1+B1	=C1+D1

Какая из формул, приведённых ниже, может быть записана в ячейке A2, чтобы построенная после выполнения вычислений диаграмма по значениям диапазона ячеек A2:D2 соответствовала рисунку?



- 1) =D1-A1
- 2) =B1/C1
- 3) =D1-C1+1
- 4) =B1\*4

Ответ:

6 Исполнитель Чертёжник перемещается на координатной плоскости, оставляя след в виде линии. Чертёжник может выполнять команду **Сместиться на (a, b)** (где  $a, b$  – целые числа), перемещающую Чертёжника из точки с координатами  $(x, y)$  в точку с координатами  $(x + a, y + b)$ . Если числа  $a, b$  положительные, значение соответствующей координаты увеличивается; если отрицательные – уменьшается.

Например, если Чертёжник находится в точке с координатами  $(9, 5)$ , то команда **Сместиться на (1, -2)** переместит Чертёжника в точку  $(10, 3)$ .

Запись

**Повтори k раз**

**Команда1 Команда2 Команда3**

**конец**

означает, что последовательность команд **Команда1 Команда2 Команда3** повторится  $k$  раз.

Чертёжнику был дан для исполнения следующий алгоритм:

**Повтори 3 раз**

**Сместиться на (-2, -3) Сместиться на (3, 2) Сместиться на (-4, 0)**

**конец**

На какую одну команду можно заменить этот алгоритм, чтобы Чертёжник оказался в той же точке, что и после выполнения алгоритма?

- 1) Сместиться на  $(-9, -3)$
- 2) Сместиться на  $(-3, 9)$
- 3) Сместиться на  $(-3, -1)$
- 4) Сместиться на  $(9, 3)$

Ответ:

**Ответами к заданиям 7–18 являются число, последовательность букв или цифр, которые следует записать в БЛАНК ОТВЕТОВ № 1 справа от номера соответствующего задания, начиная с первой клеточки, без пробелов, запятых и других дополнительных символов. Каждый символ пишете в отдельной клеточке в соответствии с приведёнными в бланке образцами.**

- 7 Разведчик передал в штаб радиogramму

• - - - • • • • • - - - - -

В этой радиogramме содержится последовательность букв, в которой встречаются только буквы А, Д, Ж, Л, Т. Каждая буква закодирована с помощью азбуки Морзе. Разделителей между кодами букв нет. Запишите в ответе переданную последовательность букв.

Нужный фрагмент азбуки Морзе приведён ниже.

А	Д	Ж	Л	Т
• -	- • •	• - • •	-	• • • -

Ответ: \_\_\_\_\_.

- 8 В программе знак «:=» обозначает оператор присваивания, знаки «+», «-», «\*» и «/» – соответственно операции сложения, вычитания, умножения и деления. Правила выполнения операций и порядок действий соответствуют правилам арифметики.

Определите значение переменной а после выполнения алгоритма:

```
a := 6
b := 2
b := a/2*b
a := 2*a+3*b
```

В ответе укажите одно целое число – значение переменной а.

Ответ: \_\_\_\_\_.

- 9 Запишите значение переменной s, полученное в результате работы следующей программы. Текст программы приведён на пяти языках программирования.

Алгоритмический язык	Бейсик	Паскаль
<pre>алг нач   цел s, k   s := 0   нц для k от 6 до 12     s := s+10   кц   вывод s кон</pre>	<pre>DIM k, s AS INTEGER s = 0 FOR k = 6 TO 12   s = s+10 NEXT k PRINT s</pre>	<pre>Var s, k: integer; Begin   s := 0;   for k := 6 to 12 do     s := s+10;   writeln(s); End.</pre>

C++	Python
<pre>#include &lt;iostream&gt; using namespace std;  int main() {   int s = 0;   for (int k =6; k&lt;13; k++)     s = s + 10;   cout &lt;&lt; s;   return 0; }</pre>	<pre>s = 0 for k in range (6,13):   s= s+10 print (s)</pre>

Ответ: \_\_\_\_\_.

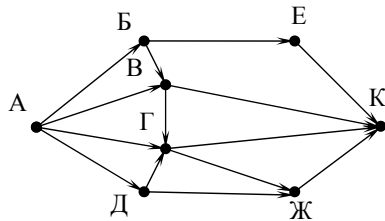
- 10 В таблице Dat представлены данные о количестве голосов, поданных за 10 исполнителей народных песен (Dat [1] – количество голосов, поданных за первого исполнителя; Dat [2] – за второго и т. д.). Определите, какое число будет напечатано в результате работы следующей программы. Текст программы приведён на пяти языках программирования.

Алгоритмический язык	Бейсик
<pre>алг нач   целтаб Dat [1:10]   цел k, m   Dat [1] := 16   Dat [2] := 20   Dat [3] := 20   Dat [4] := 41   Dat [5] := 14   Dat [6] := 21   Dat [7] := 28   Dat [8] := 12   Dat [9] := 15   Dat [10] := 35   m := 0   нц для k от 1 до 10     если Dat [k ] &gt; m то       m := Dat [k]     все   кц   вывод m кон</pre>	<pre>DIM Dat (10) AS INTEGER DIM k, m AS INTEGER Dat (1) = 16: Dat (2) = 20 Dat (3) = 20: Dat (4) = 41 Dat (5) = 14: Dat (6) = 21 Dat (7) = 28: Dat (8) = 12 Dat (9) = 15: Dat (10) = 35 m = 0 FOR k = 1 TO 10   IF Dat (k) &gt; m THEN     m = Dat (k)   ENDIF NEXT k PRINT m</pre>

Паскаль	Python
<pre> Var k, m: integer; Dat: array[1..10] of integer; Begin   Dat[1] := 16; Dat[2] := 20;   Dat[3] := 20; Dat[4] := 41;   Dat[5] := 14; Dat[6] := 21;   Dat[7] := 28; Dat[8] := 12;   Dat[9] := 15; Dat[10] := 35;   m := 0;   for k := 1 to 10 do     if Dat[k]&gt;m then       begin         m := Dat[k]       end;   writeln(m); End.</pre>	<pre> Dat=[16, 20, 20, 41, 14, 21, 28, 12, 15, 35] m=0 for k in range (0,10) :   if Dat[k] &gt; m :     m = Dat [k] print (m)</pre>
<b>C++</b> <pre> #include &lt;iostream&gt; using namespace std;  int main() {   int Dat[10] = { 16, 20, 20, 41, 14, 21, 28, 12, 15, 35};   int m= 0;   for (int k =0; k&lt;10; k++)     if (Dat[k] &gt; m) m = Dat [k];   cout &lt;&lt; m;   return 0; }</pre>	

Ответ: \_\_\_\_\_.

- 11** На рисунке – схема дорог, связывающих города А, Б, В, Г, Д, Е, Ж и К. По каждой дороге можно двигаться только в одном направлении, указанном стрелкой. Сколько существует различных путей из города А в город К?



Ответ: \_\_\_\_\_.

- 12** Ниже в табличной форме представлен фрагмент базы данных «Отправление поездов дальнего следования».

Пункт назначения	Категория поезда	Время в пути	Вокзал
Махачкала	скорый	39.25	Павелецкий
Махачкала	скорый	53.53	Курский
Мурманск	скорый	35.32	Ленинградский
Мурманск	скорый	32.50	Ленинградский
Мурманск	пассажирский	37.52	Ленинградский
Мурманск	пассажирский	37.16	Ленинградский
Назрань	пассажирский	40.23	Павелецкий
Нальчик	скорый	34.55	Казанский
Нерюнгри	скорый	125.41	Казанский
Новосибирск	скорый	47.30	Ярославский
Нижевартговск	скорый	52.33	Казанский
Нижний Тагил	фирменный	31.36	Ярославский

Сколько записей в данном фрагменте удовлетворяют условию **(Категория поезда = «скорый») И (Время в пути > 36.00)**? В ответе укажите одно число – искомое количество записей.

Ответ: \_\_\_\_\_.

- 13** Переведите число 126 из десятичной системы счисления в двоичную систему счисления. В ответе укажите двоичное число. Основание системы счисления указывать не нужно.

Ответ: \_\_\_\_\_.

14 У исполнителя Делитель две команды, которым присвоены номера:

1. раздели на 2
2. вычти 1

Первая из них уменьшает число на экране в 2 раза, вторая уменьшает его на 1.

Исполнитель работает только с натуральными числами.

Составьте алгоритм получения **из числа 65 числа 4**, содержащий не более 5 команд. В ответе запишите только номера команд.

(Например, 12112 – это алгоритм:

раздели на 2

вычти 1

раздели на 2

раздели на 2

вычти 1,

который преобразует число 42 в число 4).

Если таких алгоритмов более одного, то запишите любой из них.

Ответ: \_\_\_\_\_.

15 Файл размером 2000 Кбайт передаётся через некоторое соединение в течение 30 секунд. Определите размер файла (в Кбайт), который можно передать через это соединение за 12 секунд.

В ответе укажите одно число – размер файла в Кбайт. Единицы измерения писать не нужно.

Ответ: \_\_\_\_\_.

16 Автомат получает на вход трёхзначное десятичное число. По полученному числу строится новое десятичное число по следующим правилам.

1. Вычисляются два числа – сумма старшего и среднего разрядов, а также сумма среднего и младшего разрядов заданного числа.

2. Полученные два числа записываются друг за другом в порядке невозрастания (без разделителей).

Пример. Исходное число: 277. Поразрядные суммы: 9, 14. Результат: 149.

Определите, сколько из приведённых ниже чисел могут получиться в результате работы автомата.

1616 169 163 1916 1619 316 916 116

В ответе запишите только количество чисел.

Ответ: \_\_\_\_\_.

17 Доступ к файлу **rus.doc**, находящемуся на сервере **obr.org**, осуществляется по протоколу **https**. Фрагменты адреса файла закодированы цифрами от 1 до 7. Запишите в таблицу последовательность этих цифр, кодирующую адрес указанного файла в сети Интернет.

- 1) obr.
- 2) /
- 3) org
- 4) ://
- 5) doc
- 6) rus.
- 7) https

Ответ: 

--	--	--	--	--	--	--	--

18 Приведены запросы к поисковому серверу. Для каждого запроса указан его код – соответствующая буква от А до Г. Запишите в таблицу коды запросов слева направо в порядке **возрастания** количества страниц, которые нашёл поисковый сервер по каждому запросу. По всем запросам было найдено разное количество страниц.

Для обозначения логической операции «ИЛИ» в запросе используется символ «|», а для логической операции «И» – символ «&».

Код	Запрос
А	Солнце & Воздух
Б	Солнце   Воздух   Вода
В	Солнце   Воздух   Вода   Огонь
Г	Солнце   Воздух

Ответ: 

--	--	--	--

**Не забудьте перенести все ответы в бланк ответов № 1 в соответствии с инструкцией по выполнению работы.**

## Часть 2

*Задания этой части (19, 20) выполняются на компьютере. Результатом выполнения задания является отдельный файл (для одного задания – один файл). Формат файла, его имя и каталог для сохранения Вам сообщат организаторы экзамена.*

- 19 В электронную таблицу занесли данные о калорийности продуктов. Ниже приведены первые пять строк таблицы.

	<b>А</b>	<b>В</b>	<b>С</b>	<b>Д</b>	<b>Е</b>
<b>1</b>	Продукт	Жиры, г	Белки, г	Углеводы, г	Калорийность, Ккал
<b>2</b>	Арахис	45,2	26,3	9,9	552
<b>3</b>	Арахис жареный	52	26	13,4	626
<b>4</b>	Горох отварной	0,8	10,5	20,4	130
<b>5</b>	Горошек зелёный	0,2	5	8,3	55

В столбце А записан продукт; в столбце В – содержание в нём жиров; в столбце С – содержание белков; в столбце Д – содержание углеводов и в столбце Е – калорийность этого продукта.

Всего в электронную таблицу были занесены данные по 1000 продуктам.

**Выполните задание**

Откройте файл с данной электронной таблицей (расположение файла Вам сообщат организаторы экзамена). На основании данных, содержащихся в этой таблице, ответьте на два вопроса.

1. Сколько продуктов в таблице содержат меньше 50 г углеводов и меньше 50 г белков? Запишите число, обозначающее количество этих продуктов, в ячейку Н2 таблицы.
2. Какова средняя калорийность продуктов с содержанием жиров менее 1 г? Запишите значение в ячейку Н3 таблицы с точностью не менее двух знаков после запятой.

Полученную таблицу необходимо сохранить под именем, указанным организаторами экзамена.

**Выберите ОДНО из предложенных ниже заданий: 20.1 или 20.2.**

- 20.1 Исполнитель Робот умеет перемещаться по лабиринту, начерченному на плоскости, разбитой на клетки. Между соседними (по сторонам) клетками может стоять стена, через которую Робот пройти не может. У Робота есть девять команд. Четыре команды – это команды-приказы:

**вверх вниз влево вправо**

При выполнении любой из этих команд Робот перемещается на одну клетку соответственно: вверх ↑, вниз ↓, влево ←, вправо →. Если Робот получит команду передвижения сквозь стену, то он разрушится.

Также у Робота есть команда **закрасить**, при которой закрашивается клетка, в которой Робот находится в настоящий момент.

Ещё четыре команды – это команды проверки условий. Эти команды проверяют, свободен ли путь для Робота в каждом из четырёх возможных направлений:

**сверху свободно снизу свободно слева свободно справа свободно**

Эти команды можно использовать вместе с условием «если», имеющим следующий вид:

**если условие то  
последовательность команд  
все**

Здесь *условие* – одна из команд проверки условия.

*Последовательность команд* – это одна или несколько любых команд-приказов.

Например, для передвижения на одну клетку вправо, если справа нет стенки, и закрашивания клетки можно использовать такой алгоритм:

**если справа свободно то  
вправо  
закрасить  
все**

В одном условии можно использовать несколько команд проверки условий, применяя логические связки **и**, **или**, **не**, например:

**если (справа свободно) и (не снизу свободно) то  
вправо  
все**

Для повторения последовательности команд можно использовать цикл «пока», имеющий следующий вид:

**нц пока условие  
последовательность команд  
кц**

Например, для движения вправо, пока это возможно, можно использовать следующий алгоритм:

**нц пока справа свободно**

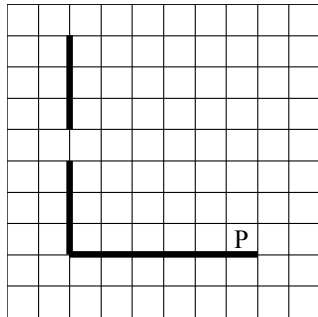
**вправо**

**кц**

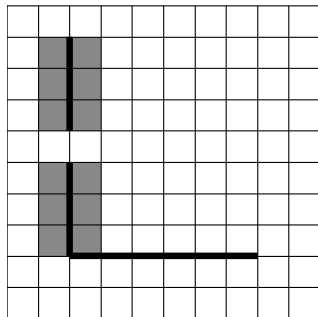
**Выполните задание.**

На бесконечном поле есть горизонтальная и вертикальная стены. Левый конец горизонтальной стены соединён с нижним концом вертикальной стены. **Длины стен неизвестны.** В вертикальной стене есть ровно один проход, точное место прохода и его ширина неизвестны. Робот находится в клетке, расположенной непосредственно над горизонтальной стеной у её правого конца.

На рисунке указан один из возможных способов расположения стен и Робота (Робот обозначен буквой «Р»).



Напишите для Робота алгоритм, закрасивающий все клетки, расположенные непосредственно левее и правее вертикальной стены. Проход должен остаться незакрашенным. Робот должен закрасить только клетки, удовлетворяющие данному условию. Например, для приведённого выше рисунка Робот должен закрасить следующие клетки (см. рисунок).



При исполнении алгоритма Робот не должен разрушиться, выполнение алгоритма должно завершиться. Конечное расположение Робота может быть произвольным.

Алгоритм должен решать задачу для любого допустимого расположения стен и любого расположения и размера прохода внутри стены.

Алгоритм может быть выполнен в среде формального исполнителя или записан в текстовом редакторе.

Сохраните алгоритм в текстовом файле. Название файла и каталог для сохранения Вам сообщат организаторы экзамена.

**20.2**

Напишите программу, которая в последовательности натуральных чисел определяет минимальное число, оканчивающееся на 4. Программа получает на вход количество чисел в последовательности, а затем сами числа. В последовательности всегда имеется число, оканчивающееся на 4.

Количество чисел не превышает 1000. Введённые числа не превышают 30 000.

Программа должна вывести одно число – минимальное число, оканчивающееся на 4.

**Пример работы программы:**

Входные данные	Выходные данные
3	14
24	
14	
34	